



الاختبار النهائي (الفصلي) الأول

1. يميز الأرقام ومقاديرها من 1 - 1000 2. يستخدم العمليات الحسابية البسيطة (الجمع - الطرح - القسمة) 3. يميز ويرسم الأشكال الهندسية الأساسية 4. يقيس المساحات والأطوال 5. يصنف المنتجات المختلفة حسب السعر والنوع. 6. يصنف المنتجات المختلفة حسب الحجم والوزن		مخرجات التعلم	يطبق المفاهيم الرياضية والعمليات الحسابية	اسم الوحدة
الفصل الأول	2023	السنة الدراسية / الفصل الدراسي		اسم المدرب
		اسم الطالب/ة		اسم المجموعة

السؤال الأول: أعط البائع البطاقة المطلوبة للحصول على الطعام



24

42

44

24

السؤال الثاني: صل عدد (22) مع الاعداد المطابقة له

21

12

22

22

22

20

22


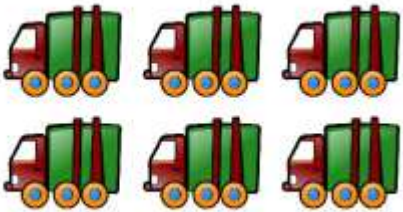


السؤال الثالث : ضع دائرة حول الشكل المختلف:



السؤال الرابع : ارسم دائرة حول الحجم الأكبر للأشكال التالية:



السؤال الخامس: يرجى اجراء عملية الطرح الاتية :


$$\square = 4 - 1$$

$$\square = 6 - 2$$

$$\square = 8 - 2$$

$$\square = 2 - 1$$